



Guía de ejercitación adiciones

1. Responda:

a) ¿Cuántos soles hay en cada grupo?



.....

.....

b) ¿Cuántos soles hay en total?

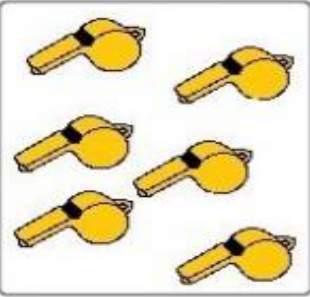
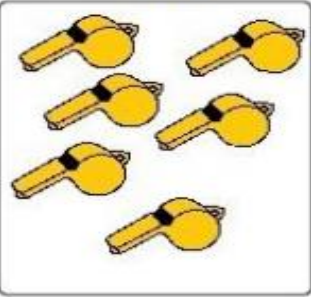
2. Observe, dibuje y complete:

a)

Tengo	Agrego	Ahora tengo	
.....	más es igual a

b)

Tengo	Agrego	Ahora tengo	
.....	más es igual a




c) **Tengo**  **Agrego**  **Ahora tengo** 

..... más es igual a




d) **Tengo**  **Agrego**  **Ahora tengo** 

..... más es igual a

3. Resuelva las siguientes adiciones:

a)  +  = 

7 + = **13**

b)  +  = 

8 + =

c)

6 + = 11

4. Resuelva las siguientes adiciones colocando los números que faltan

a)	13 + = 14	b)	... + 2 = 15
c)	8 + ... = 20	d)	... + 11 = 13

5. Complete en cada caso:

a) **Tengo 6** **Agrego 6** **Ahora tengo.....**

b) **Tengo 5** **Agrego 5** **Ahora tengo.....**

c) **Tengo 7** **Agrego 7** **Ahora tengo**